

## "به نام خدا"

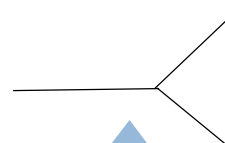
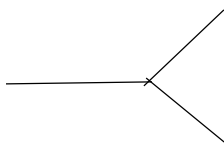
نام و نام خانوادگی: <آموزش و پرورش شهرستان گلوگاه> آزمون مداد کاغذی درس: ریاضی

پایه: دوم دبستان \*دبستان دخترانه غیردولتی گل یاس\* تاریخ: ۱۴۰۰/۱۰/۲۰

آموزگار: خانم قلعه سری سال تحصیلی: ۱۴۰۰-۱۴۰۱ مدت آزمون: ۶۰ دقیقه

۱- دخترم! همه ی عددهای دو رقمی که می توان با رقم های ۵،۳ برای یکان و ۴،۶ برای دهگان نوشت را بنویسید.

دهگان	یکان



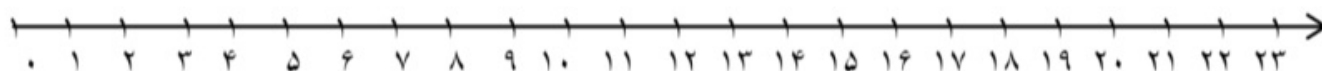
۲- عزیزم! الگوهای عددی زیر را ادامه دهید.

۳-۷-۱۱-.....-.....-.....-.....

۲-۵-۹-۱۴-.....-.....-.....-.....

۳- در یک اتوبوس ۱۴ نفر نشسته اند. در ایستگاه بعدی ۷ نفر دیگر سوار اتوبوس شدند و در ایستگاه بعد ۵ نفر از اتوبوس پیاده شدند. حالا چند نفر در اتوبوس نشسته اند؟ (به کمک محور)

.....



۴- با کارت های ۴،۰،۶ تمام عددهای سه رقمی را بسازید و بنویسید.

.....

نام و نام خانوادگی:

\*دبستان دخترانه غیردولتی گل یاس\*

پایه: دوم دبستان

آموزگار: خانم قلعه سری

آزمون مداد کاغذی درس: ریاضی

دی ماه ۱۴۰۰

۵- نازنینم! حاصل جمع و تفریق های زیر را پیدا کنید.

$$20 + 10 + 5 + 10 + 5 + 6 + 20 =$$

$$50 + 40 = \dots\dots$$

$$70 + 20 = \dots\dots$$

۸۲

۶۱

۷۶

(به روش)

-۳۶

+۸۲

-۲۳

(قارچی)

حزوه سیتی

۶- شباهت و تفاوت های دو شکل زیر را بنویسید.



تفاوت: .....



شباهت: .....

۷- کلم! جمع و تفریق های زیر را به صورت تقریبی حل کن.

$$74 \longrightarrow \dots\dots$$

$$55 \longrightarrow \dots\dots$$

$$\underline{-43} \longrightarrow \underline{-\dots\dots}$$

$$\underline{+28} \longrightarrow \underline{+\dots\dots}$$

نام و نام خانوادگی:

\*دبستان دخترانه غیردولتی گل یاس\*

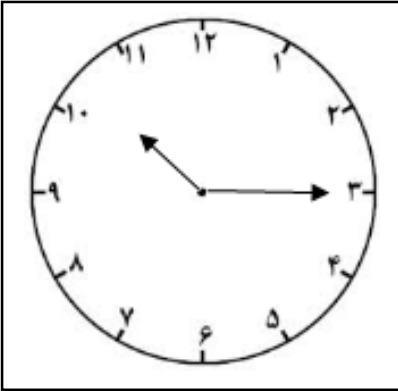
پایه: دوم دبستان

آموزگار: خانم قلعه سری

آزمون مداد کاغذی درس: ریاضی

دی ماه ۱۴۰۰

۸- دلبندم! زمانی را که ساعت رو به رو نشان می دهد، را به دو صورت بنویسید. و به سوالات پاسخ دهید.



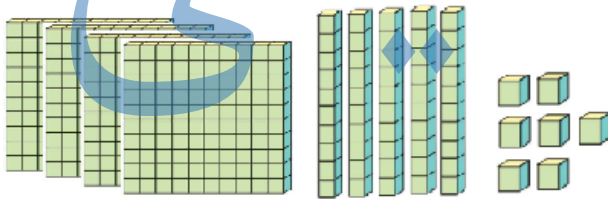
..... : .....

.....

الف) یک ربع بعد چه ساعتی است؟ .....

ب) اگر ساعت ۸:۰۰ باشد، یک ساعت و ربع دیگر ساعت چند است؟ .....


۹- جدول را کامل کنید و به عدد و حروف بنویسید.



صدگان	دهگان	یکان

به عدد: .....

به حروف: .....



صدگان	دهگان	یکان

به عدد: .....

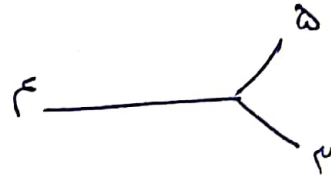
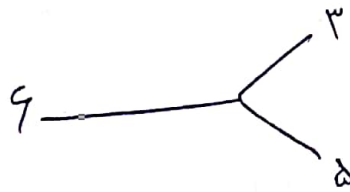
به حروف: .....

باز خورد معلم برای من:

موفق باشید - قلعه سری

کتاب دقت کنید غیر درستی حل یا این گلدگاه / برایش ددم

دقیق	کتاب
۴	۵
۴	۲
۶	۵
۶	۲



۳ - ۷ - ۱۱ - ۱۵ - ۱۹ - ۲۳ - ۲۷ - ۳۱ - ۳۵

۲ - ۵ - ۹ - ۱۴ - ۲۰ - ۲۷ - ۳۵ - ۴۴ - ۵۴

$۱۴ + ۷ - ۵ = ۱۶$



۴۰۶ - ۱۹۰ - ۹۴ - ۹۴

$۲ + ۱ + ۵ + ۱ + ۵ + ۶ + ۲ = ۷۶$

$۵ + ۴ = ۹$        $۷ + ۲ = ۹$

$$\begin{array}{r} ۷۶ \\ - ۳۶ \\ \hline ۴۰ \end{array}$$

$$\begin{array}{r} ۹۱ \\ + ۸۲ \\ \hline ۱۷۳ \end{array}$$

$$\begin{array}{r} ۷۶ \\ - ۲۳ \\ \hline ۵۳ \end{array}$$

۶- تفاوت: یکی مربع ردگیری، ستپیل است. در یکی طول هر ک ضلع برابر است اما در دیگری هر ک ضلع برابر نیستند

تفاوت: هر دو نوعی شکل هندسی هستند

$$\begin{array}{r} ۷۴ \rightarrow ۷۰ \\ - ۴۳ \rightarrow - ۴۰ \\ \hline ۳۰ \end{array}$$

$$\begin{array}{r} ۵۵ \rightarrow ۶۰ \\ + ۲۸ \rightarrow + ۳۰ \\ \hline ۹۰ \end{array}$$

کان	دهگان	سدهگان
۷	۵	۴

۹ - به عدد: ۴۵۷  
 به حروف: چهارصد و پنجاه و هفت

کان	دهگان	سدهگان
۴	۳	۲

به عدد: ۲۳  
 به حروف: درسیست و سی و چهار

# جزوه سیپی